



AP1 : L'EC2

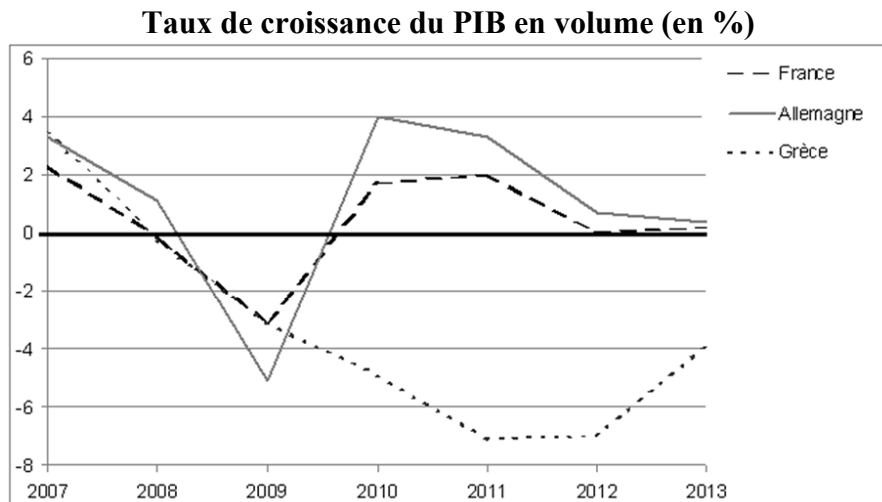
Instructions officielles :

« **Étude d'un document (4 points)** Cette deuxième partie de l'épreuve comporte une question générale et un document de nature strictement factuelle. Il s'agit principalement d'un document statistique (graphique ou tableau) de 120 données chiffrées au maximum [...] Il est demandé au candidat de répondre à la question en adoptant une démarche méthodologique rigoureuse de présentation du document, de collecte et de traitement de l'information. [...] La question de la deuxième partie doit amener le candidat à commenter et analyser le document de façon méthodique afin de le présenter, de mettre en évidence les informations qu'il apporte et ses éventuelles limites. »

 Vous ne devez pas aller au-delà de la consigne de la question : si on vous demande de comparer, vous ne faites que cela dans votre réponse, vous n'expliquez pas les causes ou les conséquences par exemple. L'EC2 est donc un exercice purement technique dans lequel on évalue les compétences d'exploitation des documents statistiques du candidat.

 Traitez l'EC2 ci-dessous à l'aide du guide-méthode joint.

- a) Vous présenterez le document puis vous comparerez l'évolution du PIB dans les différents pays.



Source : d'après base de données Eurostat, 2014.

- b) Après avoir présenté le document, vous comparerez les évolutions de l'activité économique dans les différentes zones géographiques.

Croissance annuelle du PIB en volume entre 1999 et 2012 (en %)

	Moyenne annuelle 1999-2008	2009	2010	2011	2012 (prévisions)
Monde	3,8	-1,2	5,0	3,8	3,4
Etats-Unis	2,5	-3,5	3,0	1,7	2,0
Zone Euro	2,1	-4,2	1,8	1,6	0,2
Japon	1,2	-6,3	4,1	-0,3	2,0

Source : Perspectives économiques de l'OCDE, n°90, 2011.